

Výukový materiál vytvořen v rámci projektu EU peníze školám

REGISTRAČNÍ ČÍSLO PROJEKTU
CZ.1.07/1.4.00/21.3654

Základní škola Liberec,
Dobiášova 851/5, příspěvková organizace



evropský
sociální
fond v ČR



EVROPSKÁ UNIE



MINISTERSTVO ŠKOLSTVÍ,
MLÁDEŽE A TĚLOVÝCHOVY



OP Vzdělávání
pro konkurenceschopnost

INVESTICE DO ROZVOJE VZDĚLÁVÁNÍ


Tento výukový materiál vznikl v rámci Operačního programu Vzdělávání pro konkurenceschopnost.

Téma:	Opakování - města ČR
Autor:	Mgr. Jana Paštová
Číslo materiálu:	VY_32_INOVACE_VI_11_05
Sada č.	11

Předmět: Vlastivěda
Tematický okruh : Místo, kde žijeme
Datum vytvoření: 22. 10. 2013
Cílová skupina: žák 1. stupně ZŠ - základní vzdělávání
Doporučeno pro: 4. ročník
Anotace:

- procvičování měst v České republice
- posílení mezipředmětových vztahů, využití multimediální techniky

Opakování - města ČR




Poznáš města v Čechách?

1. Město leží v Jihočeském kraji. Leží na řece Lužnici.
Bylo založeno husity.
Uprostřed náměstí byly umístěny kádě.

2. Město leží na Vltavě. Je tu mnoho historických památek. Je tu Chrám sv. Mikuláše.


3. Město leží na západě Čech. Leží na soutoku Ohře a Teplé. Znamé lázeňské město.
Nejznámější pramen je Vřídlo.

4. Město na severu Čech. Je tu nejstarší ZOO v Čechách. Lanovkou se lze dostat na 1012 metrů vysokou horu.



5. Město leží v Jihočeském kraji na řece Vltavě. V blízkosti náměstí je Černá věž. Je tu dřevozpracující závod Koh-i-noor, kde se vyrábějí tužky.

6. Město na východě Čech. Ve městě je chemický průmysl. Vyrábějí se tu perníky.



Správné řešení

1. Tábor

2. Praha

3. Karlovy Vary

4. Liberec

5. České Budějovice

6. Pardubice

Spoj město s obrázkem

1. Tábor



2. Praha



3. Karlovy Vary




4. Liberec



5. České Budějovice





6. Pardubice



Správné řešení.

- 1. Tábor
- 2. Praha
- 3. Karlovy Vary
- 4. Liberec
- 5. České Budějovice
- 6. Pardubice



Moravská města

Brno




Zlín



Olomouc



Znojmo



Moravská města

Brno

Zlín

Olomouc

Znojmo



Zdroje:

- Všechny objekty použité k vytvoření materiálu jsou součástí SW ActivStudio, SW ActivInspire, Resource pack nebo jsou vlastní originální tvorbou autora.
- Jakékoliv další využití podléhá autorskému zákonu. Dílo smí být dále šířeno pod licencí CC BY-SA (www.creativecommons.cz).
- Autorem materiálu a všech jeho částí, není-li uvedeno jinak, je autor.
- Materiál je určen pro bezplatné používání pro potřeby výuky a vzdělávání na všech typech škol a školských zařízení.



INVESTICE DO ROZVOJE VZDĚLÁVÁNÍ

verze programu: ActivInspire 1.6

Vzdělávací oblast:

Člověk a jeho svět

klíčová slova:

město, výroba

Poznávání měst podle indicií.

Orientace na mapě.

Vyhledávání měst na nástěnné mapě.

Správný název města doplň do obdélníku.

Poznávání měst podle indicií.

Orientace na mapě.

Vyhledávání měst na nástěnné mapě.

Správný název města doplň do obdélníku.

Zkontroluj správné řešení.

Vezmi si tužku a spoj město s obrázkem.

Víš ještě něco o městě?

Ukaž na mapě.

Vyhledej další informace na www.

Zkontroluj správné řešení.

Spoj název města se správným obrázkem. Použij tužku.

Ukaž na příruční mapě město.

Zkontroluj správné řešení.