

Výukový materiál vytvořen v rámci projektu EU peníze školám

REGISTRAČNÍ ČÍSLO PROJEKTU
CZ.1.07/1.4.00/21.3654

Základní škola Liberec,
Dobiášova 851/5, příspěvková organizace



evropský
sociální
fond v ČR



EVROPSKÁ UNIE



MINISTERSTVO ŠKOLSTVÍ,
MLÁDEŽE A TĚLOVÝCHOVY



OP Vzdělávání
pro konkurenceschopnost

INVESTICE DO ROZVOJE VZDĚLÁVÁNÍ

Tento výukový materiál vznikl v rámci Operačního programu Vzdělávání pro konkurenceschopnost.

Téma:	ČR - opakování
Autor:	Mgr. Jana Paštová
Číslo materiálu:	VY_32_INOVACE_VI4(1)_11_08
Sada č.	11


Předmět: Vlastivěda
Tematický okruh : Místo, kde žijeme
Datum vytvoření: 10.11. 2013
Cílová skupina: žák 1. stupně ZŠ - základní vzdělávání
Doporučeno pro: 4. ročník

Anotace:

- opakování učiva České republiky
- mezipředmětové vztahy, práce s multimediální technikou

Česká republika

- vznikla
- hlavní město je
- prezident sídlí na
- má miliónů
obyvatel.



Pražském hradě

Liberec 28. 10. 1918

1. 1. 1993 Praha

10,5


1

Brno

Staroměstské radnici

Česká republika

- vznikla 1. 1. 1993 .
- hlavní město je Praha .
- prezident sídlí na Pražském hradě .
- má 10,5 miliónů obyvatel.



Liberec 28. 10. 1918

1

Brno

Staroměstské radnici

NĚMECKO RAKOUSKO POLSKO SLOVENSKO








**Jaká vlajka patří
České republice?**





Jaká vlajka patří České republice?



Zdroje:

- Všechny objekty použité k vytvoření materiálu jsou součástí SW ActivStudio, SW ActivInspire, Resource pack nebo jsou vlastní originální tvorbou autora.
- Jakékoliv další využití podléhá autorskému zákonu. Dílo smí být dále šířeno pod licencí CC BY-SA (www.creativecommons.cz).
- Autorem materiálu a všech jeho částí, není-li uvedeno jinak, je autor.
- Materiál je určen pro bezplatné používání pro potřeby výuky a vzdělávání na všech typech škol a školských zařízení.



INVESTICE DO ROZVOJE VZDĚLÁVÁNÍ

verze programu: ActivInspire 1.6

Vzdělávací oblast:

Člověk a jeho svět

klíčová slova:

prezident, Česká republika

Doplň správná slova. Vyber z nabídky.

Správné řešení.

Doplňte názvy sousedních států České republiky na správné místo.

Doplňte názvy sousedních států České republiky na správné místo.

Označte správnou vlajku České republiky a pokuste se pojmenovat názvy zemí , kterým patří ostatní vlajky.

Nevíte-li, použijte nápovědu.

Správné řešení.